











Naam: \_\_\_\_\_

## DAGTAAK 26

hallo,

de taak staat weer klaar voor jou. ben jij er ook klaar voor?

VAK	TAAK	Klaar?
	Opdracht voor spelling. 10 minuten vrij lezen.	
	<u>Rekenen</u> : Tot 20	
	<u>WO</u> : Kunnen wij het maken?	
		



# T3 rem 9: hoorwoorden met een andere klank bij een prent schrijven

## de andere klanken


de ie van tien

# 10

de ui van luik



de oe van doek



de eu van deur



1

## woord zoekt prent



■ schrijf bij elke prent het juiste woord.



■ kies een woord uit het kader.

bier – doel – mier – vuil – leuk – deuk



---

---

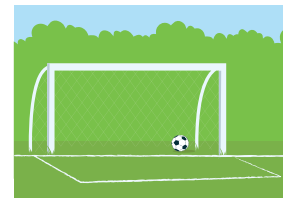
---



---

---


---



---

---

---



---

---

---



---

---

---






---

---

---

2 noem mijn naam

 schrijf bij elke prent het juiste woord.



---

---

---

---


---

---

---

---

---



---

---

---

---

---

---

---

---

---



---

---

---

---

---

---

---

---

---

■ een foutje mag. schrijf het hier eenmaal goed.  
vertel me hoe je het doet!

---

---

---

---

---

---

---

---

hoe deed ik de taak?



ik denk



juf/meester vindt

**A 1**



Groep per 10 en vul in.

tien	los
...	...

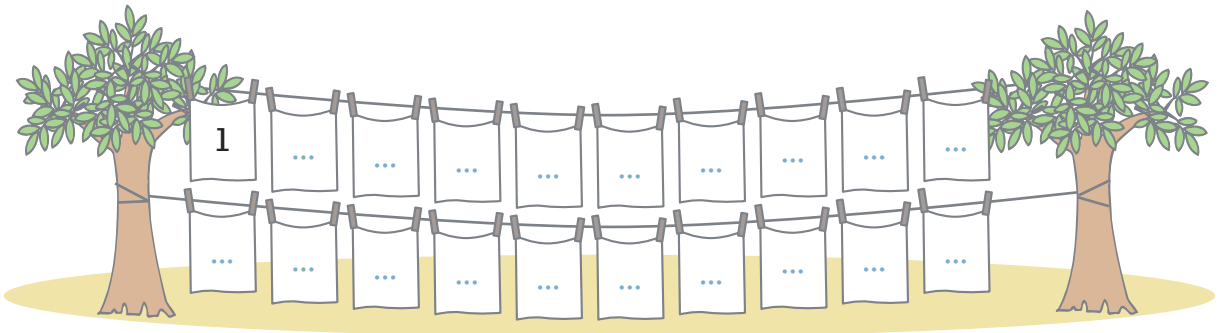
...



**2**



Vul de getallenlijn in.



**3**



Kleur als er net 20 zegels zijn.




4  Vul in.

$$\begin{aligned}20 &= 10 + \dots \\20 &= 20 + \dots \\20 &= 0 + \dots \\20 &= \dots + \dots\end{aligned}$$

$$\begin{aligned}10 + 10 &= \dots \\10 + 5 &= \dots \\7 + 10 &= \dots \\10 + 2 &= \dots\end{aligned}$$

$$\begin{aligned}10 + \dots &= 20 \\20 + \dots &= 20 \\10 + \dots &= 19 \\10 + 0 + \dots &= 20\end{aligned}$$

5  Vul in.

$$\begin{aligned}16 - 6 &= \dots \\17 - 7 &= \dots \\20 - 10 &= \dots \\20 - 0 &= \dots\end{aligned}$$

$$\begin{aligned}13 - 10 &= \dots \\20 - 20 &= \dots \\18 - 8 &= \dots \\16 - 10 &= \dots\end{aligned}$$

$$\begin{aligned}15 - \dots &= 5 \\20 - \dots &= 20 \\11 - \dots &= 10 \\20 - \dots &= 10\end{aligned}$$

6  Vul in.

	2		...		6		...		10
	...		14		...		18		...

7  Vul in met <, > of met een getal.

$$\begin{aligned}16 & \cdot 20 \\19 & < \dots \\11 & > \dots \\20 & \cdot 12 \\2 & \cdot 20 \\ \dots & \neq 10 \\2 & \cdot 20\end{aligned}$$

8  Vul aan.

$$\begin{aligned}17 & ; 18 ; \dots \\11 & ; 12 ; \dots \\16 & ; \dots ; 14 \\ \dots & ; \dots ; 20 \\11 & ; \dots ; 9 \\ \dots & ; \dots ; 10 ; 9 \\16 & ; \dots ; \dots ; \dots ; 20\end{aligned}$$



# 1 OP ONDERZOEK



■ bekijk een meubel uit je kamer. kruis aan welk soort meubel je gaat bekijken.



■ kijk goed naar het meubel. kleur het vakje bij de **verbinding**svoorwerpen die je ziet bij het meubel dat je onderzoekt.

